

Cum se rezolvă?

Demonstrații ale unor teoreme celebre cu ajutorul ariilor

de MIHAELA BERINDEANU

Prezentăm o metodă de rezolvare a problemelor de geometrie utilizând calculul unor arii. Problemele au fost discutate cu elevii de gimnaziu la Centrul de Excelență de Matematică din Municipiul București.

Înființat în anul școlar 2012-2013, Centrul de Excelență în Matematică - București (CEx) oferă celor mai buni elevi din Capitală posibilitatea de a se pregăti intensiv la matematică.

Fiind o pepinieră pentru viitorii cercetători din domeniul științelor exacte, CEx selectează din toate școlile bucureștene elevii cei mai ageri, mai curioși și mai dornici de a înțelege tainele matematicii.

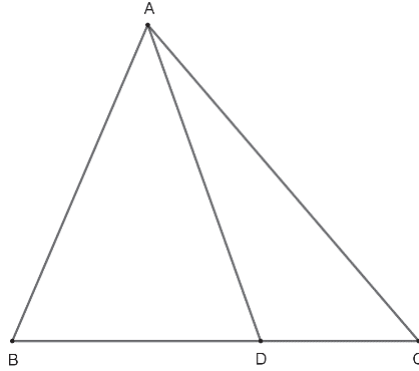
În anul școlar 2017-2018 am fost profesor formator la CEx pentru grupa de elevi de clasa a VI-a. Am fost nevoită să îndeplinesc dorința imperativă a elevilor de a învăța pe repede înainte teoremele esențiale ale geometriei plane (un domeniu nou și incitant pentru ei), bazându-mă doar pe cunoștințele asimilate deja de elevi, așa că am recurs la demonstrații folosind cunoștințe simple de geometrie (calculul ariei) și proprietățile proporțiilor.

Cu noțiuni simple, dar ingenios coroborate, se pot demonstra teoreme clasice de geometrie, cu un grad ridicat de dificultate, fără a apela la cunoștințele care, conform programei de studiu, se predau în clasele superioare (asemănarea triunghiurilor, teorema lui Thales etc).

Demonstrațiile pe care le vom prezenta pornesc de la următorul rezultat, a cărui justificare este imediată. Mai departe, prin $\mathcal{A}(MNP)$ vom înțelege aria triunghiului MNP .

Teorema 1. Într-un triunghi ABC , cu $D \in BC$, există relația:

$$\frac{BD}{DC} = \frac{\mathcal{A}(ABD)}{\mathcal{A}(ADC)}.$$



Vom demonstra cu ajutorul ariilor, pentru început, următorul rezultat.

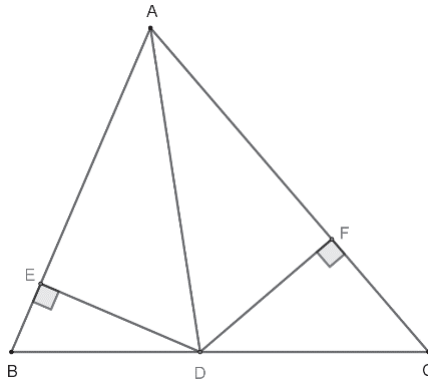
Teorema 2 (Teorema bisectoarei). Fie ABC , un triunghi, și punctul $D \in BC$ astfel încât $m(\widehat{BAD}) \equiv m(\widehat{CAD})$. Atunci

$$\frac{BD}{DC} = \frac{AB}{AC}.$$

Demonstrație. Construim perpendiculare din punctul D pe dreptele AB și AC : $DE \perp AB$, $DF \perp AC$, unde $E \in AB$ și $F \in AC$. Cum AD este bisectoare, rezultă că

$$[DE] \equiv [DF].$$

Calculăm raportul ariilor triunghiurilor ABD și ADC în două moduri.



Folosind Teorema 1, avem că

$$\frac{\mathcal{A}(ABD)}{\mathcal{A}(ADC)} = \frac{BD}{DC}.$$

Pe de altă parte, ținând cont că $[DE]$ și $[DF]$ sunt înălțimi în triunghiurile ABD , respectiv ADC , avem:

$$\frac{\mathcal{A}(ABD)}{\mathcal{A}(ADC)} = \frac{AB \cdot DE}{AC \cdot DF},$$

raport pe care îl simplificăm, ținând cont de egalitatea $DE = DF$, și obținem

$$\frac{\mathcal{A}(ABD)}{\mathcal{A}(ADC)} = \frac{AB}{AC}.$$

Din cele stabilite mai sus, rezultă că $\frac{BD}{DC} = \frac{AB}{AC}$, deci bisectoarea unghiului A determină pe latura opusă, (BC) , segmente proporționale cu laturile triunghiului. \square

Continuăm expunerea cu rezultatul următor.

Teorema 3 (Teorema lui Van Aubel). *Fie ABC , un triunghi, și punctele $D \in (BC)$, $E \in (AB)$, $F \in (AC)$, cu proprietatea $AD \cap BF \cap CE = \{O\}$. Atunci*

$$\frac{AO}{OD} = \frac{AE}{EB} + \frac{AF}{FC}.$$

Demonstrație. Justificarea este o aplicație geometrică a proporțiilor derivate. Conform Teoremei 1,

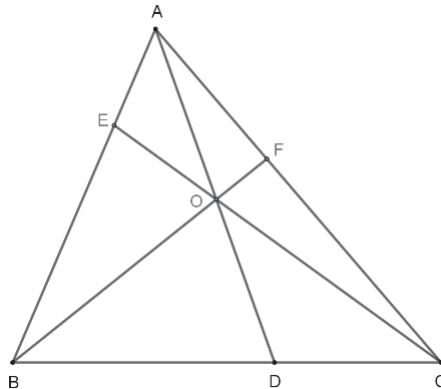
$$\frac{AE}{EB} = \frac{\mathcal{A}(AEO)}{\mathcal{A}(BEO)} = \frac{\mathcal{A}(AEC)}{\mathcal{A}(BEC)} = \frac{\mathcal{A}(AEC) - \mathcal{A}(AEO)}{\mathcal{A}(BEC) - \mathcal{A}(BEO)} = \frac{\mathcal{A}(AOC)}{\mathcal{A}(BOC)}.$$

Analog se arată că

$$\frac{AF}{FC} = \frac{\mathcal{A}(AOB)}{\mathcal{A}(BOC)},$$

deci,

$$\frac{AE}{EB} + \frac{AF}{FC} = \frac{\mathcal{A}(AOC) + \mathcal{A}(AOB)}{\mathcal{A}(BOC)}.$$



Datorită aceleiași teoreme, avem

$$\frac{AO}{OD} = \frac{\mathcal{A}(AOB)}{\mathcal{A}(BOD)} = \frac{\mathcal{A}(AOC)}{\mathcal{A}(COD)} = \frac{\mathcal{A}(AOB) + \mathcal{A}(AOC)}{\mathcal{A}(BOD) + \mathcal{A}(COO)} = \frac{\mathcal{A}(AOB) + \mathcal{A}(AOC)}{\mathcal{A}(BOC)}.$$

Ținând cont de ultimele două relații obținute, concluzia este imediată. \square

Înceiem prezentarea unor rezultate clasice din geometria triunghiului cu următoarea.

Teorema 4 (Teorema lui Ceva). *Fie ABC , un triunghi, și punctele $D \in (BC)$, $E \in (AB)$, $F \in (AC)$, cu proprietatea $AD \cap BF \cap CE = \{O\}$. Atunci*

$$\frac{DB}{DC} \cdot \frac{FC}{FA} \cdot \frac{EA}{EB} = 1.$$

Demonstrație. Conform Teoremei 1, având experiența demonstrației precedente, putem scrie

$$\frac{BD}{DC} = \frac{\mathcal{A}(BOD)}{\mathcal{A}(DOC)} = \frac{\mathcal{A}(ABD)}{\mathcal{A}(ADC)} = \frac{\mathcal{A}(ABD) - \mathcal{A}(BOD)}{\mathcal{A}(ADC) - \mathcal{A}(DOC)} = \frac{\mathcal{A}(AOB)}{\mathcal{A}(AOC)}.$$

În mod asemănător,

$$\frac{FC}{FA} = \frac{\mathcal{A}(BOC)}{\mathcal{A}(AOB)}, \quad \text{și} \quad \frac{EA}{EB} = \frac{\mathcal{A}(AOC)}{\mathcal{A}(BOC)}.$$

Prin urmare, produsul rapoartelor din membrul stâng al concluziei devine

$$\frac{DB}{DC} \cdot \frac{FC}{FA} \cdot \frac{EA}{EB} = \frac{\mathcal{A}(AOB)}{\mathcal{A}(AOC)} \cdot \frac{\mathcal{A}(BOC)}{\mathcal{A}(AOB)} \cdot \frac{\mathcal{A}(AOC)}{\mathcal{A}(BOC)} = 1.$$

\square

Demonstrațiile acestor trei teoreme au stârnit curiozitatea elevilor, așa că le-am propus să caute singuri enunțul teoremei lui Menelaus și, apoi, să ofere o demonstrație similară cu cele lucrate împreună.

La următoarea întâlnire, feedbackul a fost cel așteptat: toți elevii s-au familiarizat cu Teorema lui Menelaus și au demonstrat-o cu ajutorul proporțiilor între arii.

La această temă am lucrat cu elevii următoarea problemă.

Problema 1. $ABCD$ și $CEFG$ sunt două dreptunghiuri, având un punct în comun și interioarele disjuncte. Laturile CD și CG formează unghiul ascuțit DCG . Să se arate că dacă $GG' \perp DC$, cu $G' \in DC$, $DD' \perp CG$, cu $D' \in CG$, și $\frac{GG'}{BC} = \frac{DD'}{CE}$, atunci mediana din C , a triunghiului CBE , trece prin centrul cercului circumscris triunghiului DCG .

Olimpiada de Matematică, Etapa pe sector, 2017

Demonstrație. Pentru început, introducem următoarele notații: O este centrul cercului circumscris triunghiului DCG , punctul P este mijlocul segmentului BE și $k = \frac{GG'}{BC} = \frac{DD'}{CE}$. Construim $OM \perp CD$, cu $M \in CD$, și $ON \perp CG$, cu $N \in CG$.

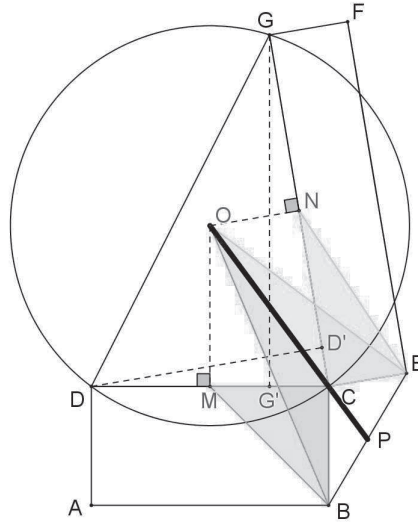
Vom arăta acum că cele două dreptunghiuri construite în exterior au aceeași arie. În acest sens, avem

$$\mathcal{A}(ABCD) = AB \cdot BC = \frac{AB \cdot GG'}{k} = \frac{2\mathcal{A}(DCG)}{k}$$

și

$$\mathcal{A}(CGFE) = GC \cdot CE = \frac{GC \cdot DD'}{k} = \frac{2\mathcal{A}(DCG)}{k},$$

de unde rezultă că $\mathcal{A}(ABCD) = \mathcal{A}(CEFG)$.



În continuare, vom arăta că punctele O, C și P sunt coliniare. Din $OM \parallel BC$ rezultă că $\mathcal{A}(MBC) = \mathcal{A}(OBC)$, ca triunghiuri cu aceeași bază și aceeași înălțime, și, analog, $ON \parallel CE$ implică $\mathcal{A}(NCE) = \mathcal{A}(OCE)$. Pe de altă parte, cum $OM \perp CD$ și $ON \perp CG$, rezultă că $DM = MC$, respectiv $CN = NG$. Cum $\mathcal{A}(OBC) = \mathcal{A}(MBC) = \frac{\mathcal{A}(ABCD)}{4}$ și $\mathcal{A}(OCE) = \mathcal{A}(NCE) = \frac{\mathcal{A}(CEFG)}{4}$, rezultă că $\mathcal{A}(OBC) = \mathcal{A}(OCE)$. Din $BP = PE$ se obține că CP este mediană în triunghiul CBE și atunci $\mathcal{A}(BPC) = \mathcal{A}(CPE)$. Deci $\mathcal{A}(OBC) + \mathcal{A}(BPC) = \mathcal{A}(OCE) + \mathcal{A}(CPE)$, de unde rezultă că OP este mediană în triunghiul OBE , prin urmare punctele O, C și P sunt coliniare.

PROF. MIHAELA BERINDEANU

COLEGIUL NAȚIONAL DE INFORMATICĂ „TUDOR VIANU” DIN BUCUREȘTI

E-mail: kimmihaela@yahoo.com